


## Бланк ответов 8-9 класс

## Задание 1.

Предприятие и субъект РФ, в котором оно расположено	Город, где расположено предприятие	Основные факторы размещения данного предприятия	Пример города, где расположено подобное предприятие
«Онежский тракторный завод», Республика Карелия	 Онежский тракторный завод <i>Петрозаводск</i>	<i>расположение            вблизи водных            ресурсов            в данной            местности</i>	<i>Самара</i>
«Северсталь», Вологодская область	 Северсталь <i>Вологда</i>	<i>в этой мест-            ности расположе-            ны залежи            железной руды</i>	<i>Катеринбург</i>
«Азот», Ставропольский край	 <i>Ставрополь</i>	<i>Близко к            железной            дороге и            водоему</i>	<i>Петрахаев</i>
«Комбайновый завод „Ростсельмаш“, Ростовская область	 РОСТСЕЛЬМАШ <i>Ростов-на-Дону</i>	<i>расположен            в открытой            зоне, что            необходимо            для работы            техники</i>	<i>Самара</i>

<p>Горьковский автомобильный завод (ГАЗ), Нижегородская область</p>	 <p>Житный Новгород</p>	<p>быстрее к фее, наши чл необходимы природных ресурсов и материалов</p>	<p>Тельветти</p>
---	--	--	------------------

### Задание 2.

Внесите в таблицу ошибки и варианты правильных ответов.

№ п/п	Ошибка	Верно
1	азимут 180° в север. направлении	азимут 0° в север. направлении
2	широтный берег	широтный край- ных деревьев.
3	мог с южной стороны	мог с северной стороны
4	уровни далеко вверх по отвесу	недалеко вверх
5	азимут движения равен 85°	около 240°
6	черный трещино- вый лес (дуб лесн.)	стелетическое обезлесное даше
7	значки красного цвета (кашеры)	значок черного цвета
8	<del>кашеры</del> полоний дешет	
9	роение львиной лапы или крупное ...	команда
10	метель фее	

### Задание 3.

Какими факторами может быть обусловлена природная азональность?

---



---



---



---

Где и при каких условиях встречаются такие а зональные ландшафтные комплексы, как тугай, солончаки, пойменные леса, мангры, сфагновые болота?

**Задание 4.**

Субъект Московская область

Характеристика субъекта расположен в центре европейской части страны. центром этого субъекта является столица России - город Москва

Характеристика	Субъект РФ	Пояснение
Первая:		
Вторая:	Республика Шарий Эл	
Третья:		
Четвертая:		
Пятая:		
Шестая:		
Седьмая:	Шевяковская область	
Восьмая:		

### Задание 5.

Страна	Официальные языки	Форма правления	Столица
Монголия	монгольский	республика	Улан-Батор
Сан-Марино	итальянский	монархия	Сан-Марино
Австрия	немецкий	республика	Вена

Непал		республика	
Казахстан	казахский	республика	Шур-Султан
Туркмения	туркменский	республика	
Узбекистан	узбекский	республика	
Парагвай		республика	

Назовите самое большое и самое маленькое по площади из выбранных государств самое большое - Казахстан

самое маленькое - Сан-Марино

Назовите государство с большей численностью населения из выбранных




Австрия


Шифр

1906

## Бланк ответов 8-9 класс

## Задание 1.

Предприятие и субъект РФ, в котором оно расположено	Город, где расположено предприятие	Основные факторы размещения данного предприятия	Пример города, где расположено подобное предприятие
«Онежский тракторный завод», Республика Карелия	 Онежский тракторный завод Петрозаводск	Сырьевой (недалеко Северсталь и другие металлургические заводы), Потребительский (по близости бабыны колво деревень и посёлков, а также Петрозаводск, который в Вологодской области, следовательно, много торговых)	
«Северсталь», Вологодская область	 Северсталь Череповец	Сырьевой (недалеко петровский бассейн), потребительский (недалеко центральных частей России, Санкт-Петербург и т.д., следовательно, потребностей в металле на крупных производствах).	Курск, негнет Курганская машина металлургическая
«Азот», Ставропольский край	 Невинномысск		
«Комбайновый завод „Ростсельмаш“», Ростовская область	 РОСТСЕЛЬМАШ	Потребительский (в Ростовской области одна из самых больших промышленных зон, следовательно, много комбайнов); много рабочих ресурсов.	Московский автомобильный завод, Москва

	Гостов-на-Волгу		
Горьковский автомобильный завод (ГАЗ), Нижегородская область	 Нижний Новгород	Автомобильный завод (бывшее население, район централизованной район и приватизация район России), много трудовых ресурсов.	Камский автомобильный завод, Тольятти

### Задание 2.

Внесите в таблицу ошибки и варианты правильных ответов.

№ п/п	Ошибка	Верно
1	азимут $180^\circ$ в северном направлении	азимут $180^\circ$ в южном направлении
2	светило над глазом	было над головой
3	мох покрывал с южной стороны	мох покрывается с северной <sup>сторони</sup>
4	направление азимут равен $85^\circ$	на запад азимут равен $270^\circ$
5	избушка лесника обдувал <sup>черн.</sup> <sup>только</sup>	избушка лесника обдувалась <sup>защитой</sup> <sup>сноднем</sup>
6	красный зюнок головосилика это каледон.	черный зюнок головосилика <sup>это каледон</sup>
7	лидки берес ренит отменяет <sup>сигнал</sup> <sup>информации</sup>	линейный маршрут отменяется <sup>балом</sup>
8	Удальство - вершина	Удобство - вершина.
9	Начало реки - устье	начало реки - исток
10	Хвойный лес с широкими берёзками	в хвойном лесу нет берёз.

### Задание 3.

Какими факторами может быть обусловлена природная аazonальность?

Азональность может быть обусловлена факторами:

• антропогенные (из-за человека)

• климатические (из-за изменений климата, ураганов)

Где и при каких условиях встречаются такие аazonальные ландшафтные комплексы, как тугай, солончаки, пойменные леса, мангры, сфагновые болота?

Солончаки в полупустынях, степях из-за осушения вод.  
болот; мангры из-за затопления лесов на низмен-  
ностях; пойменные леса возле крупных рек Тимур, Амударья и т.д.

#### Задание 4.

Субъект \_\_\_\_\_

Характеристика субъекта \_\_\_\_\_



Характеристика	Субъект РФ	Пояснение
Первая:	Вологодская область	
Вторая:	Кемерово	
Третья:		
Четвертая:	Корень	
Пятая:	<del>Корень</del>	
Шестая:	Яркий край	
Седьмая:	Самарская область	
Восьмая:	Чуваша	

### Задание 5.

Страна	Официальные языки	Форма правления	Столица
Казахстан	Казахский, Русский	республика	Астана
Молдавия	Молдавский	республика	Кишинев
Туркменистан	Туркменский	монархия	Ашгабат

Боливия	Испанский	республика	А Лапа
Непал	Непальский	монархия	
Австрия	Немецкий	республика	Вена
Узбекистан	Узбекский	республика	Самарканд
Парагвай	Испанский	республика	

Назовите самое большое и самое маленькое по площади из выбранных государств самое большое - Казахстан, самое маленькое -

Непал

Назовите государство с большей численностью населения из выбранных

Казахстан